

# 第一单元测试

## 一、我会填。(20分)

1. 在米尺上, 刻度 0 到刻度 100 是 ( ) 厘米, 也就是 ( ) 米。

2. 在括号里填上适当的长度单位。

(cm, dm 或 m)

一张床长 2 ( )。

一本书宽 14 ( )。

一个铁钉长 5 ( )。

篮球场长 28 ( )。

3. 400 厘米 = ( ) 米

36 分米 - 6 分米 = ( ) 分米

30 厘米 + 20 厘米 = ( ) 厘米

## 二、我是聪明的小法官。(8分)

1. 一支毛笔长 6 米。 ( )


2. 大楼高 2 米。 ( )

3. 比 29 分米短 19 分米是 10 厘米。 ( )

4. 线段的长度是可以度量的。 ( )

## 三、我会选。(6分)

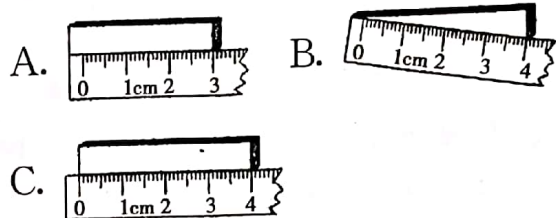
1. 下图中 ( ) 是线段。



2. 1 米 75 厘米可能是 ( ) 的高度。

A. 楼房 B. 铅笔 C. 爸爸

3. 下面测量方法正确的是 ( )。



## 四、比一比, 填一填。(填“>”“<”或“=”)(18分)

9 米  9 厘米 400 厘米  3 米

23 米 + 7 米  30 米

17 米  20 厘米

99 厘米  1 米

46 米 - 8 米  48 米

## 五、比一比, 算一算。(10分)

9 厘米



12 厘米



20 厘米



1. 钢笔比铅笔长多少厘米?




2. 钢笔比毛笔短多少厘米?

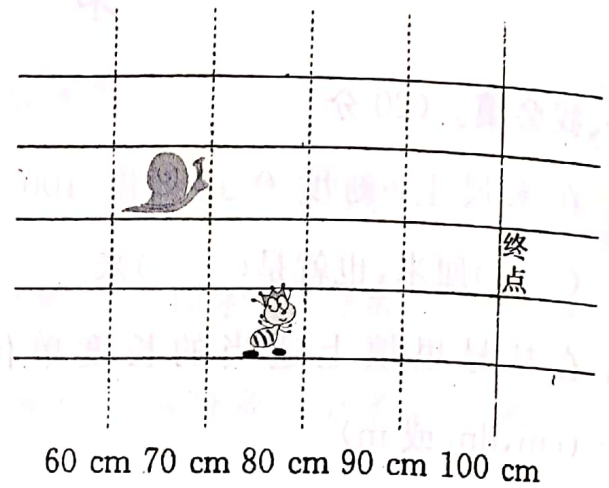
六、画一画。(12 分)


1. 画一条 4 厘米长的线段。

2. 画一条比 6 厘米短 1 厘米的线段。

3. 画一条比下面的线段长 2 厘米的  


七、小蜗牛和小蚂蚁赛跑。(10 分)



1. 全长是 100 cm, 也就是( )m。
2.  已经爬了( )cm。
3. 请你再提出一个数学问题, 并试着解答。(4 分)

八、量一量。(16 分)

